

ADI SOYADI:


2.SINIF

MATEMATİK KONU ANLATIM ÇALIŞMASI

BÖLMEDE GRUPLAMA VE PAYLAŞTIRMA




Aşağıda ifadelerde verilen boşlukları varlık sayılarına göre dolduralım.




... kalem ... kalemliğe eşit olarak paylaştırılırsa, her kalemlikte ... kalem olur.



.... gül vazoya eşit olarak paylaştırılırsa, her vazoda ... gül olur.



... çilek ... tabağa eşit olarak paylaştırılırsa, her tabakta ... çilek olur.



... balık ... akvaryuma eşit olarak paylaştırılırsa, her akvaryumda....balık olur.




ADI SOYADI:

2.SINIF

MATEMATİK KONU ANLATIM ÇALIŞMASI

BÖLMEDE GRUPLAMA VE PAYLAŞTIRMA

Aşağıdaki tabloları örnekteki gibi ardışık çıkarma işlemi yaparak dolduralım.

8 çileği 2 kişiye eşit paylaştım.	Ardışık çıkarma yapalım.	Kaç meyve düşer?
	$8-2=6$ 1.işlem $6-2=4$ 2.işlem $4-2=2$ 3. işlem $2-2=0$ 4.işlem	4 Defa ardışık çıkarma yaptığımız için her birine dört çilek düşer.
6 armutu 3 kişiye eşit paylaştım.	Ardışık çıkarma yapalım.	Kaç meyve düşer?

12 eriği 4 kişiye eşit paylaştım.	Ardışık çıkarma yapalım.	Kaç meyve düşer?

15 portakalı 5 kişiye eşit paylaştım.	Ardışık çıkarma yapalım.	Kaç meyve düşer?
