


1.   A Tekrar etmek istiyorum.  
 B Tekrar etmek istemiyorum.
2. Aşağıda alfabemiz ile ilgili verilen bilgilerden hangisi yanlıştır?  
 A 29 tane harften oluşur.  
 B 10 tane sesli harften oluşur.  
 C X,Q,W harfleri dilimizde yoktur.
3. Aşağıdaki hangi sözcükte, farklı ünlü sayısı daha çoktur?  
 A Kahramanmaraş  B gözlükçülük  
 C Kardeşlerimiz
4. Verilen görseldeki hecelerle kurallı sözcük yazıldığında hangi hece dışarda kalır?



- A hi  
 B te  
 C ka

5. 'Kızamık - kızıl - kızak - kız ' kelimelerinden sözlük sırasına göre en sonda hangisi bulunur?  
 A Kızak  B Kızamık  C Kızıl
6. 'Yürek' sözcüğünün eş anlamlısı hangi cümlenin içinde kullanılmıştır?  
 A Arkadaşımın anlattıklarıyla hüznümlendim.  
 B Soğuktan midesi ağrıdığı.  
 C Söyledediklerimden kalbi kırılmış.
7. Görselin doğru hecelerine ayrılışı hangisidir?



- A Pa-pa-tya  
 B Pa-pat-ya  
 C Pap at-ya

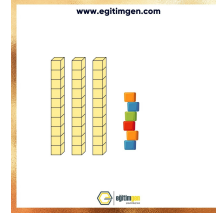
8. Görsel göre kaç numaralı ay tek heceden oluşur?



- A 1  
 B 2  
 C 3

9. 'Ayşe, bu sıralar bana **kaba** davranıyor.' Cümlesinde koyu yazılan sözcüğün zıt anlamlısı nedir?  
 A Çirkin  B Nazik  C İyimsiz
10. Aşağıdaki cümlelerin hangisinde yanlış yazılmış bir sözcük vardır?  
 A Çarşamba  B İstanbul  C Saklanbaç
11. Hangi cümlede yazım yanlışı yapılmıştır?  
 A Benim babam Şehit Kürşat Güneş İlkokulunda öğretmen.=  
 B Bizim evimiz Karşıyaka mahallesinde.  
 C Ayçağ ile Can ikiz kardeşler.

12. Onluk bloklarla oluşturulan sayı nedir?



- A 46  
 B 26  
 C 36

13. 7'den başlayarak dörder sayan Kağan, 4. adımda hangi sayıyı söyler?  
 A 15  B 19  C 17
14. 4 - 7 - 10 - ? - 16 şekline ritmik sayma yapan Ümran, soru işareti yerine hangi sayıyı söylemeliydi?  
 A 12  B 11  C 13
15. 52'den büyük 57'den küçük olan sayı hangisidir?  
 A 54  B 51  C 58
16. Hangi sayı 30 onluğuna yuvarlanamaz?  
 A 28  B 33  C 35
17. İki düzine, iki desteden kaç fazladır?  
 A 2  B 4  C 6

18. İşleminin sonucu nedir?

$$\begin{array}{r} 54 \\ + 20 \\ \hline \end{array}$$

- A  64  
B  74  
C  84

19. Görsel göre soru işareti yerine hangi rakam gelmelidir?

$$\begin{array}{r} 28 \\ + 25 \\ \hline ?3 \end{array}$$

- A  4  
B  5  
C  6

20. İşleminin sonucu nedir?

$$\begin{array}{r} 49 \\ - 22 \\ \hline \end{array}$$

- A  17  
B  22  
C  27

21.  $80 - 30 = ?$  İşleminin sonucu nedir?

- A  30      B  40      C  50

22. Aşağıdakilerden hangisi fiziksel özelliğimiz değildir?

- A  Göz rengimiz.      B  Güzel şiir okumamız.  
C  Saç rengimiz.

23. Kiloları nedeniyle oyuna alınmayan Hale'ye arkadaşları hangi konuda hata yapmıştır?

- A  Kazanamayacağı için oyuna almamışlardır.  
B  Bireysel farklılıklara saygı duymamışlardır.  
C  Onun daha başarılı olduğu oyun seçmemişlerdir.

24. Hangisi diğer arkadaşlarımızla olan ortak özelliğimizdir?

- A  Müzik zevkimiz.      B  Beslenme ihtiyacımız.  
C  Resim zevkimiz.

25. Ders programına göre hangi kitabımızın her gün çantamızda olmasına gerek yoktur?

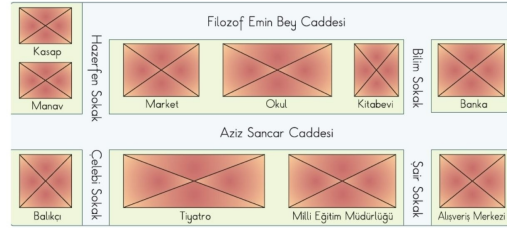
| Pazartesi   | Salı         | Çarş.        | Perş.        | Cuma         |
|-------------|--------------|--------------|--------------|--------------|
| Hayat B.    | Hayat B.     | Hayat B.     | Hayat B.     | Türkçe       |
| Türkçe      | Türkçe       | Türkçe       | Türkçe       | Türkçe       |
| Türkçe      | Türkçe       | Türkçe       | Türkçe       | Matematik    |
| Matematik   | Matematik    | Matematik    | Matematik    | G. Sanatlar  |
| Yabancı Dil | O. Fiz. Etk. | O. Fiz. Etk. | Serbest Etk. | Müzik        |
| Yabancı Dil | O. Fiz. Etk. | O. Fiz. Etk. | Serbest Etk. | O. Fiz. Etk. |

- A  Hayat Bilgisi    B  Matematik    C  Türkçe

26. Sınıf kuralları oluşturulurken kimlerin fikri alınmaz?

- A  Sınıf öğretmenin.      B  Öğrencilerin.  
C  Okul müdürünün

27. Verilen görsel göre bankaya en uzak yapı hangisidir?



- A  Okul    B  Tiyatro salonu    C  balıkçı

28. Grup çalışmasında başarılı olmak için neler yapılmalıdır?

- A  En çalışkan kişiler seçilmelidir.  
B  Farklı yetenekteki kişilerle grup oluşturulmalıdır.  
C  Yazısı güzel olan arkadaşımız grup lideri olmalıdır.

29. Ayakkabısı olmadığı halde parası ile kendisine kırmızı bir mont alan Meryem, nasıl hareket etmiştir?

- A  İsteklerine öncelik vermiştir.  
B  İhtiyaçlarına öncelik vermiştir?  
C  Parasını bilinçli harcamıştır.

30. Aşağıdakilerden hangisinde nezaket ifadeleri bir arada verilmiştir?

- A  Günaydın, hoşçakal, defol, teşekkür ederim.  
B  Rica ederim, iyi günler, günaydın, sağolun  
C  Beni rahat bırak, iyi akşamlar, git başımdan

31. "Ayşegül, çalışkan ve yardımseverdir. Arkadaşları tarafından çok sevilir. Verdiği sözü mutlaka tutar." Aşağıdakilerden hangisi Ayşegül'ün bir özelliği olamaz?

- A  İyilik yapmayı sevmesi    B  Ders çalışmayı sevmesi.  
C  Oyun bozan olması.