

3. SINIF TEMEL DERSLER ÇALIŞMA KAĞIDI

TÜRKÇE

Aşağıdaki metni anlamına uygun olarak devam ettirip uygun bir başlık yazınız.

Soğuk bir kış günü Yağmur, yatağından kalkmış camdan dışarıyı izliyordu. İçini bir hüznün kaplamıştı. Sokaktaki hayvanların bir evi olsaydı diye düşüncelere dalmıştı. Annesi Yağmur'a seslendi:

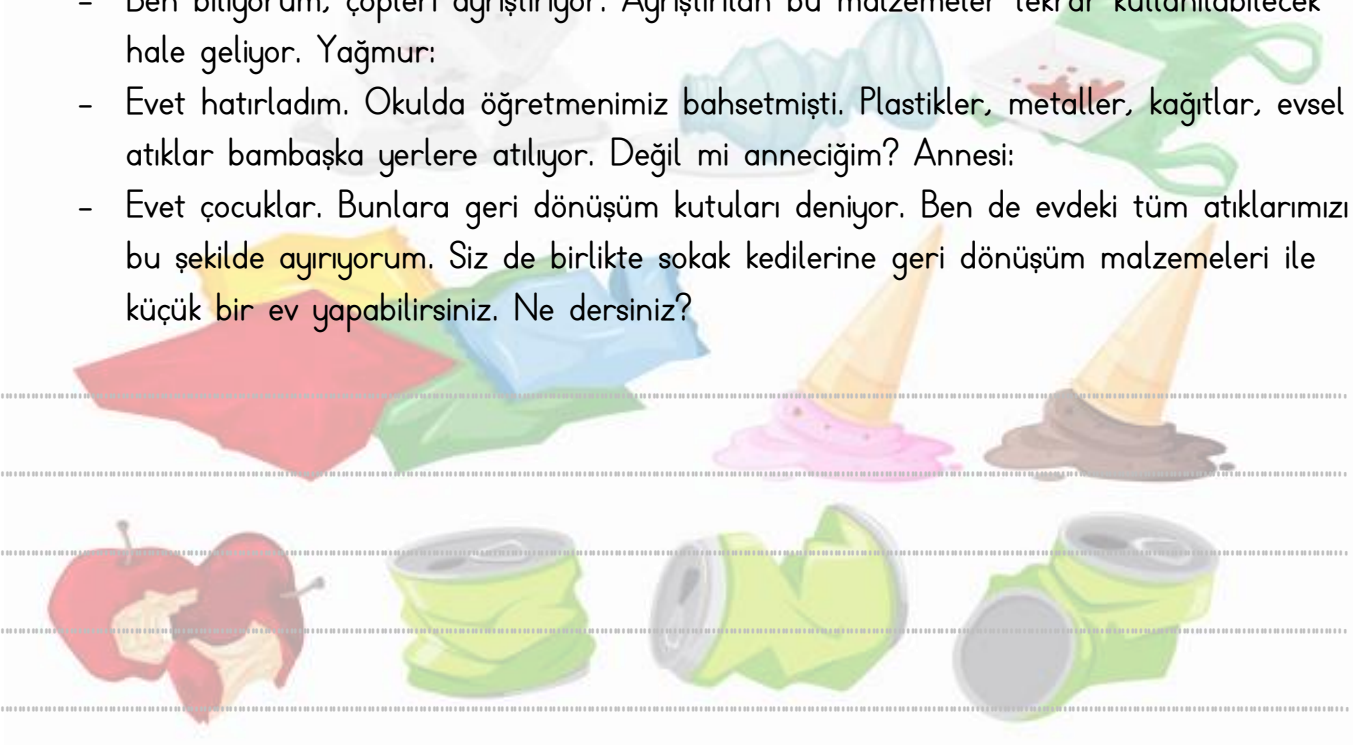
- Yağmur, Mete seninle oyun oynamaya geldi. Hadi, gel kızım.

Yağmur koşarak annesi ve Meté'nin yanına gitti. Yağmur:

- Anneciğim hava ne kadar da soğuk, sokaktaki hayvanların bir evi yok. Onlar için çok üzülüyorum. Keşke yardım edebilseydik.

O sırada Yağmur annesinin evdeki atıklarını birkaç poşete ayırdığını gördü. Annesine:

- Anne Ne yapıyorsun, dedi. Mete gülümseyerek;
- Ben biliyorum, çöpleri ayrıştırıyor. Ayrıştırılan bu malzemeler tekrar kullanılabilir hale geliyor. Yağmur;
- Evet hatırladım. Okulda öğretmenimiz bahsetmişti. Plastikler, metaller, kağıtlar, evsel atıklar bambaşka yerlere atılıyor. Değil mi anneciğim? Annesi;
- Evet çocuklar. Bunlara geri dönüşüm kutuları deniyor. Ben de evdeki tüm atıklarımızı bu şekilde ayırıyorum. Siz de birlikte sokak kedilerine geri dönüşüm malzemeleri ile küçük bir ev yapabilirsiniz. Ne dersiniz?



GEOMETRİK CİSİMLER-PROBLEMLER

Soru 1: 1 Küp, 1 üçgen prizma ve 1 dikdörtgenler prizmasının ayrıtlarının sayısının toplamı kaçtır?

Çözüm:

Soru 2: Kare prizmanın yüzey sayısı ile aynı sayıda ayrıta sahip olan geometrik cisimler nelerdir?

Çözüm:

Soru 3:

- a. 9 ayrıtı vardır.
- b. 6 köşesi vardır.
- c. 8 ayrıtı vardır.

Üçgen prizma ile ilgili verilenlerden hangileri doğrudur?

Çözüm:

Soru 4: İki küpü üst üste koyan Deha, ortaya çıkan geometrik cismin adını ve özelliklerini defterine yazacaktır. Deha'ya yardımcı olmaya ne dersiniz?

Çözüm:

Cismin adı:

Ayrıtı sayısı:

Yüzey sayısı:

Köşe sayısı:

GEOMETRİK CİSİMLER

Aşağıda verilen geometrik cisimleri, kendilerine ait özellikleri ile aynı renge boyayınız.

üçgen prizma

İki yüzü dairedir

küp

Açınımında belirli bir şekli yoktur

silindir

6 köşesi var

küre

Bütün yüzeyleri karedir

GEOMETRİK CİSİMLER

Aşağıda nesnelerin hangi geometrik cisme benzediğini ve bir özelliğini yazınız.



.....

.....



.....

.....



.....

.....



.....

.....

DOĞAL VE YAPAY ÇEVRE

Aşağıda verilen canlıların yaşadığı alanları doğal ya da yapay ortam olarak gruplayınız. İfadelerin başındaki harfleri uygun kutucuklara yazınız.

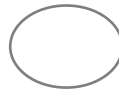
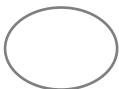
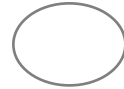
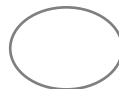
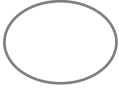
Z	Kafeste yaşayan papağan
Y	Hayavanat bahçesinde yaşayan fil
V	Ormanda yaşayan aslan
U	Saksıda yetişen çiçek
T	Akvaryumda yaşayan balık
S	Derede yaşayan kurbağa
R	Evde yaşayan kedi
P	Ahırda yaşayan inek
O	Denizde yaşayan balina

DOĞAL ORTAM

YAPAY ORTAM

DOĞAL VE YAPAY ÇEVRE

Aşağıda verilen görsellerin altındaki kutucuğu doğal çevre ise yeşile, yapay çevre ise sarıya boyayınız.



GÖREV VE SORUMLULUKLARIM

Aşağıda verilen ifadelerin başına çocuklar için uygun olanlara "UMBA" uygun olmayanlara "YİSA" yazınız.

	Çevremi temiz tutarım.
	Kaynakları tasarruflu kullanırım.
	Zamanımı iyi değerlendiririm.
	Askere gider vatanımı korurum.
	Okul kurallarına uyarım.
	Kitap okurum.
	Enerji kaynaklarını tasarruflu kullanırım.
	Ailemdeki iş bölümünde görev alırım.
	Derslerime düzenli çalışırım.
	Çalışıp ailemin geçimini sağlarım.

ORTAK KULLANIM ALANLARIMIZ

Aşağıda belirtilen alanlardan "ortak kullanım alanı" olanları boyayınız. Boş bırakılan yerlere de siz ortak kullanım alanları yazınız.

SINIFIMIZ

ADLİYE SARAYI

OKULUMUZ

ODAMIZ

POSTANE

HASTANE