

METİN İŞLEME

TATLI DİL

Mağaza vitrinlerindeki mankenleri bilirsiniz. Hepsi de güler yüzlüdür. Ama dilleri olmadığı için soğukturlar. İnsanları da güzel yapan, sıcak yapan dildir. Ama her dil değil... Dilin de tatlısı olmalı. Çünkü o dil, ağzın içinde her dönüşünde can yakar, kalp kırar. "Dil yarası, yaraların en derinidir." derler. Doğru sözdür. Bıçağın açtığı yara zamanla kapanır; dil yarası ise kapanmak nedir bilmez. Üstelik acı dilin zararı yalnız karşısındakine değildir, kendi sahibini de dünya güzeli olsa çirkinleştirir. Nice güzel insanlar vardır ki dilleri yüzünden sevilmezler. Ama tatlı dil, öyle mi? "Yılanı deliğinden çıkarır." derler. Yılan insanın dilinden anlamaz. Ama tatlı dilin ne kadar etkili olduğunu anlatmak için böyle demişler. Güzel konuşmayı hüner saymalı. Tatlı konuşmalarıyla tanınmış insanlar vardır. Onları dinlemek başlı başına bir zevktir. Hani bazı insanlar için "Ağzından bal damlıyor." derler ya! İşte bu ağızdan bakan bal, tatlı dilin balıdır.

Mademki tatlı dil, her kapıyı açan sihirli bir anahtardır. "Öyle ise ne duruyoruz? Dilimizi tatlılaştıralım." diyeceksiniz. Gönülleri fetheden tatlı dil, bütün gücünü gönülden alır. İnsanın dilinin tatlı olması için gönlünün tatlı, iyi olması gerekir. Asık suratlı bir insanın döküleceği tatlı dil, tilkinin kargaya döktüğü tatlı dil gibidir. İnsanı belki kısa bir zaman için aldatır ama çabucak foyası ortaya çıkar. Gerçek tatlı dil, iyi insanda olur. Yüreği sevgi dolu insanın dili, kendiliğinden tatlılaşır.

Yukarıda verilen metne göre soruları cevaplayınız.

1- İnsanları güzel yapan nedir?

.....

2- Tatlı dil gücünü nereden alır?

.....

3- Dili kendiliğinden tatlılaştıran nedir?

.....

4- "Ağzından bal damlamak" deyimini açıklayalım.

.....

5- Tatlı dilli olmak için hangi ifadeleri kullanmamız gerekir?

.....

6- Mecaz anlamlı olan bir cümle yazınız.

.....

7- Benzetme yapılan bir cümle yazınız.

.....

ÇARPMA İŞLEMİ PROBLEMLERİ

Aşağıdaki problemleri çözünüz.

1) Bir köyde 24 tarla, her tarlada 8 ağaç ve her ağaçta 7 kuş olduğuna göre bu köyde ne kadar kuş vardır?

2) Bir taksi bir günde saate 95 kilometre hızla 8 saat yol alıyor. Bir kamyon ise bir günde 65 kilometre hızla 7 saat yol alıyor. 3 gün sonra taksi otomobilden kaç kilometre fazla yol alır?

3) Bir öğrenci velisi, okul servisi için ayda 250 TL ödüyor. Bu veli 9 ay sonra kaç TL servis ücreti öder?

4) Ben 8 yaşındayım. Babamın yaşı benim yaşımın 5 katından 5 eksiktir. Babamın ve benim yaşlarımız toplamı kaçtır?

5) 26 fazlası 75 olan sayının 7 katı katı kaçtır?

6) $A > 415 \times 26$ ise "A" yerine yazılabilecek sayıların en küçüğü kaçtır?

7) 25 sayısının 6 katının 17 fazlasını gösteren matematik cümlesini (işlemini) yazınız.


8) Aynı anda aynı yerden zıt yönlere hareket eden iki otobüsten birisi saatte 85 km, diğeri ise saatte 97 km hızla gidiyor. 5 saat sonra aralarındaki mesafe kaç km olur?

KUVVETİN CİSİMLER ÜZERİNDEKİ ETKİSİ

Aşağıda verilen resimlerdeki durumların, kuvvetin hangi etkisi ile gerçekleştiğini kutucuklara yazınız.




1




2



3



4



5



6



7



8

Sallanma	Yavaşlama	Şekil Değişirme	Hızlanma	Dönme

Aşağıdaki durumların hangisinde itme hangisinde çekme kuvveti uygulandığını işaretleyiniz.

Durumlar	İtme	Çekme
Kapalı pencereyi açmak		
Duran topa vurmak		
Kumanda ile televizyon açmak		
Bilgisayara klavye ile bir şeyler yazmak		
Bankamatik makinesine kartı sokmak		
Yerden çöp almak		
Dolabın kapağını açmak		
Şarj aletini prizden almak		

Aşağıdaki boşlukları uygun ifadeler ile doldurunuz.

beşeri

ihtiyaç

teknoloji

bozulmasına

doğal

- a) Taş, torak gibi kendiliğinden unsurlar vardır.
- b) İnsanlar kendi ihtiyaçlarını karşılarken doğanın sebebiyet vermektedirler.
- c) sayesinde beşeri çevre olanakları artmıştır.
- d) İnsanlar tarafından yapılan yol, köprü vs. yapıtlar..... unsurdur.
- e) Doğanın bazı küresel ısınmadan dolayı daha fazla artmıştır.

Aşağıda verilen ifadelerden doğru olanlara "D" yanlış olanlara "Y" harfini yazınız.

- İnsanlar kendi zevklerine göre doğal çevrede oynama yapmaktadırlar.
- Betonlaşma yerine ağaçlandırma yaparak çevreye katkı sağlamalıyız.
- Manavgat şelalesi bir beşeri unsurdur.
- Doğada meydana gelen tüm olumsuzluklar tüm canlıları etkilemektedir.
- İnsanlar kendinden sonraki kuşaklar için çevreyi korumak zorunda değildir.