

## 4.Sınıf Kasım Ara Tatil Süreç Değerlendirme Testi

Tarih:

İsim:

1. Aşağıdaki kelimelerden hangisi sözlükte diğerlerinden önce gelir?

- A  Masa B  Masal  
C  Maske D  Masraf

2. Aşağıdaki kelimelerden hangisi hecelerine yanlış ayrılmıştır?

- A  Tür-ki-ye-nin B  Çu-kur-o-va  
C  Sa-at-çi-nin D  Dü-zen-baz

3. 'Ağlarım, aklıma geldikçe gülüştüklerimiz.' Cümlesindeki anlam ilişkisi aşağıda hangi cümlede vardır?

- A  Ayaklarım gider ama kalbim gitmez.  
B  Yemek yemek kadar su içmekte gerekli.  
C  Ben masumum desede suçlu olduğumu biliyordum.  
D  Kurallar hepimiz içindir.

4. 'Gül' kelimesi hangi cümlede tebessüm etmek anlamında kullanılmıştır?

- A  Bir demet gül, beni mutlu eder.  
B  Gülü seven dikenine katlanır.  
C  Şakalarım bir kez olsun gülmedi.  
D  Kırmızı gül en sevdiğim çiçektir.

5. Hangi cümlede büyük harflerin yazımı ile ilgili yanlış yapılmamıştır?

- A  Her gece minnoşun havlamasıyla irkilirim.  
B  Ülkemizin en büyük dağı, Ağrı dağıdır.  
C  Berkan ve Bertan İnönü ilkokulunda öğrencilerdir.  
D  Okulumuz Güneş Sokak'ta.

6. Hangi renkteki sözcüğün yazımı doğrudur?



- A  Kırmızı  
B  Turuncu  
C  Mavi  
D  Yeşil

7. Hangi sözcüklerde yanlış pekiştirme yapılmıştır?

- A  Mavi → mapmavi B  Kırmızı → kıpkırmızı  
C  Sarı → sapsarı D  Yeşil → yepyemiş

8. Hangi cümlede benzetme anlamı vardır?

- A  Altın yüzüğü güneşte parlıyordu.  
B  Kayaların kuzey tarafı yosun tutmuş.  
C  İnci gibi dişleriyle bana gülüyordu.  
D  Kirli yüzünün içinde gözleri yinede çok güzeldi.

9. 'Şafakla beraber tarlaya varan Mehmet Amca, tarlasındaki mısırların durumuna üzülyordu.' Cümlesinde hangi sorunun cevabı yoktur?

- A  Kim B  Nerede  
C  Niçin D  Nasıl

10. Hangisi nesnel bir cümledir?

- A  Ülkemizin en güzel şehri Antalya'dır.  
B  Kediler köpeklerden daha sevimlidir.  
C  Milli takımımız rengi kırmızı ve beyazdır.  
D  Erkekler kızlardan güzel şiir okur.

11. 101110 sayısının okunuşu hangisidir?

- A  Yüz bir bin yüz on bir B  yüz bin yüz on  
C  yüz bir bin yüz on D  yüz bir bin yüz bir

12. On binler basamağında dört, binler basamağında iki ve yüzler basamağında altı olan sayı, hangi sayıdan daha büyüktür?

- A  42750 B  42642  
C  54242 D  41999

13. Hangi sayıların tamamı 800' yuvarlanır?

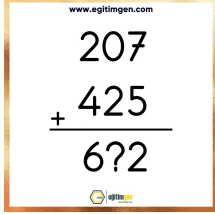
- A  756-797-812 B  808-748-848  
C  785-795-885 D  737-792-842

14. Görseldeki örüntünün kuralı nedir?



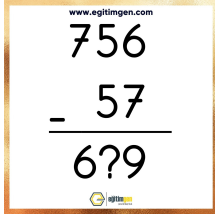
- A  Üçer üçer artan örüntü.  
B  Dörder dörder artan örüntü.  
C  Sırası ile üç ve dörder artan örüntü.  
D  Dört artıp üç eksilen örüntü

15. İşleminde ? işareti yerine hangi rakam yazılmalıdır?



- A  0  
B  1  
C  2  
D  3

16. Görseldeki çıkarma işleminde soru işareti yerine hangi rakam yazılmalıdır?



- A  0  
B  8  
C  9  
D  5

17. 650-250= ? işleminin sonucu nedir?

- A  450  
B  400  
C  600  
D  500

18. Doğan'ın 145 lirası vardı. Ablasının ise Doğan'dan 25 lira fazla parası vardır. İki kardeşin toplam parası ne kadardır?

- A  315  
B  305  
C  375  
D  295

19. Üç arkadaşın yaşları toplamı 5 yıl önce 45'ti. 10 yıl sonra yaşları toplamı kaç olur?

- A  60  
B  75  
C  90  
D  50

20. Yaren 250 sayfalık kitabını 3 gün boyunca okuyor. İlk gün 60 sayfa ve diğer günler bir önceki günden 10 sayfa daha fazla okuyarak kitabını bitirmek istiyor. Yaren'in okuması gereken kaç sayfa kalmıştır?

- A  30  
B  40  
C  50  
D  60

21.



- A  Canlıların yaşama devam edebilmeleri.  
B  Canlı kalıntılarının diğer canlılar tarafından parçalanması.  
C  Canlı kalıntılarının oksijenli bir alanda uzun bir süre saklanması.  
D  Canlı kalıntısının üstü hava almayacak şekilde toprak, balçıkla kapanıp uzun yıllar geçmesi.

22.



- A  Mevsimler oluşur.  
B  Canlı kalıntılarının fosilleşmesi oluşur.  
C  Yıl içinde Güneş ışınlarının geliş açısı değişir.  
D  Yıl içinde gece - gündüz süreleri değişir.

23.



- A  A noktası gündüzü yaşamaktadır.  
B  C noktası geceyi yaşamaktadır.  
C  B noktasında saat A noktasına göre daha ileridedir.  
D  B noktasında Güneş A noktasına göre daha geç batır.

24. Bilgi: Bir besinde birden fazla besin içeriği olabilir. Besin içeriğinin fazla olmasına göre sınıflandırırız. Buna göre görsellerdeki besinlerin içeriğinde aşağıdakilerden hangisi fazla bulunmaz?



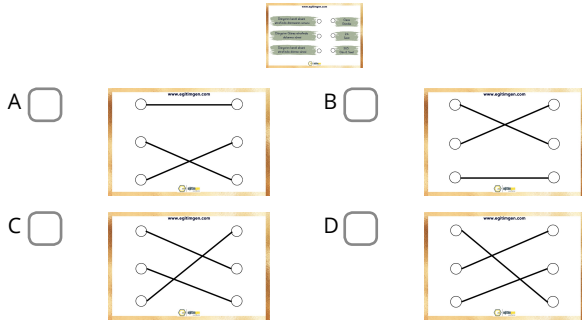
- A  karbonhidratlar      B  yağlar  
C  vitaminler      D  proteinler

25.

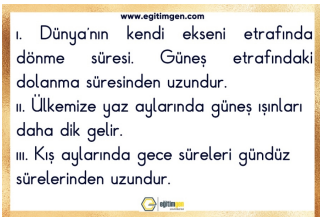


- A  Dünya'nın kendi ekseninde bir tam tur dönmesi.  
B  Dünya'nın Güneş'in etrafında bir tam tur dolanması.  
C  Dünya'nın uydusudur.  
D  Dünya'nın ısı ve ışık kaynağıdır.

26. Görselde verilen bilgiler doğru eşleştirildiğinde görünüm nasıl olur?



27. Verilen bilgilerden hangisi veya hangileri doğrudur?



- A  II      B  I ve II  
C  I, II, ve III      D  I

28. Aşağıdaki bilgilerden hangisi doğrudur?

- A  Mineraller sadece sebzelerde bulunur.  
B  C vitamini sadece meyvelerde bulunur.  
C  Bütün besinlerde su vardır.  
D  Proteinler vücudumuzun enerji kaynağıdır.

29. Bilgi: Kayaç ve topraklardan oluşur. İnsanların ve birçok hayvanın üzerinde yaşadığı katmandır. Kalınlığı her yerde aynı değildir. Verilen bilgi hangi katmana aittir.

- A  kara katmanı      B  su katmanı  
C  hava katmanı      D  manto

30. Hasan Bey, markete gitmeden önce alışveriş listesi hazırlamıştır. Buna göre Hasan Bey için aşağıdakilerden hangisi söylenemez?

- A  Markette daha uzun süre kalır.  
B  Zamanını etkili kullanan biridir.  
C  Tasarrufa dikkat eden biridir.  
D  İhtiyacı kadar ürün alarak besin israfını önler.

31. Aşağıdaki ülkelerden hangisinin kültürü bizim kültürümüze yakın olması **beklenemez**?

- A  Kuzey Kıbrıs Türk Cumhuriyeti  
B  Almanya  
C  Azerbaycan  
D  Türkmenistan

32. Kendisiyle ilgili bilgi veren Elif'in hangi hangi olayı belirtmesine gerek **yoktur**?

- A  Doğum tarihi  
B  Nereli olduğu  
C  Hangi okula gitti  
D  Ablasının sevip sevmediği şeyleri

33. Ülkemizin kuruluşuyla ilgili olayları kronolojik olarak sıraya koymak isteyen Ebrar hangi seçenekte doğru yapmıştır.

www.egitimgen.com

I. 23 Nisan [ ] de TBMM açıldı.  
II. Atatürk 19 Mayıs [ ] da Samsun'a çıktı.  
III. 29 Ekim [ ] te Cumhuriyet ilan edildi.  
IV. 30 Ağustos [ ] de Kurtuluş Savaşı kazanıldı.

- A  III-I-II-IV  
B  II-I-III-IV  
C  I-II-III-IV  
D  II-I-IV-III

34. Görseldeki öğrencinin hangi kulüpte görev alması daha uygun olur?

www.egitimgen.com

Okumak benim en önemli ilgi alanım. Saatlerce bıkmadan okuyabilirim.

- A  Kızılay Kulübü  
B  Kütüphanecilik Kulübü  
C  Sağlık ve Beslenme Kulübü  
D  Spor Kulübü

35.

www.egitimgen.com

Gel, ne olursan ol yine gel. Hangi dinden olursan ol yine gel.

Mevlana

Mevlana'nın aşağıdaki özelliklerden hangisine sahip olduğunu söyleyebiliriz?

- A  Cömert ve çok zengin  
B  İleri görüşlü ve insanlı  
C  Hoşgörülü ve farklılıklara saygılı  
D  Çalışkan ve sevecen





36. Bu bilgiye göre araştırma yapmak için kullandığımız aşağıdaki kaynaklardan hangisi sözlü kaynaklara örnektir?

www.egitimgen.com

Ailemizin geçmişiyle ilgili araştırmalar yaparak aile tarihimizi öğrenebilir ve böylece aile bağlarımızı kuvvetlendirebiliriz. Bu araştırmayı yaparken sözlü ve yazılı, basılı kaynaklardan faydalanırız.

- A  Mektuplar  
B  Video CD'ler  
C  Fotoğraf albümü  
D  Dede ve nine ile görüşmeler

37. Aşağıdaki görsellerden hangisi millî kültürümüze ait **değildir**?

A   B    
C   D  

38. Aşağıdaki görsellerde oynanan oyunlardan hangisi geleneksel sokak oyunlarından **değildir**?

A   B    
C   D  

39. Mustafa Kemal, İstanbul'dan Samsun'a

..... gitmiştir. Verilen cümlede noktalı yere aşağıdaki kelimelerden hangisi gelmelidir?

- A  trenle  
B  Bandırma Vapuru'yla  
C  padişahla  
D  uçakla

40.

www.egitimgen.com

Doğu Cephesi'nde, Ermenilere karşı zafer kazandım. Bu bölgede yetim kalmış pek çok çocuğu evlat edindim.

Görseldeki Millî Mücadele kahramanımız kimdir?

- A  İsmet İnönü  
B  Fevzi Çakmak  
C  Mehmet Akif Ersoy  
D  Kazım Karabekir