

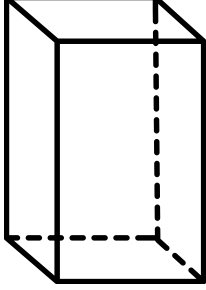
ADI SOYADI:

3.SINIF

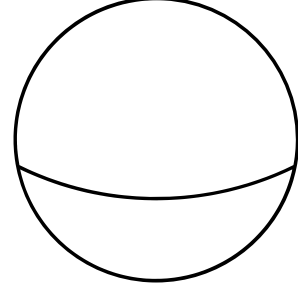
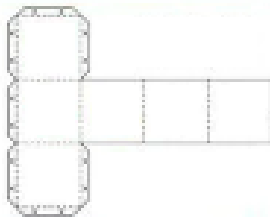
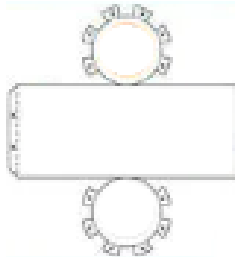
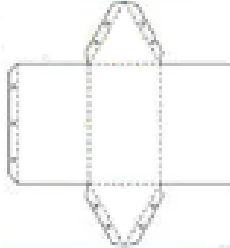
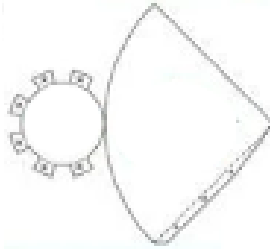
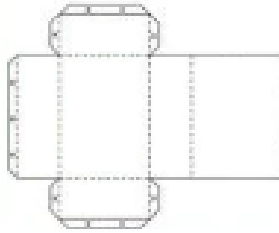
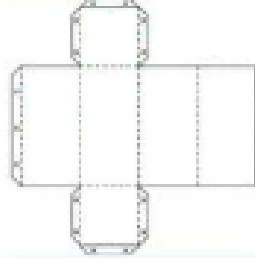
MATEMATİK KONU ANLATIM ÇALIŞMASI

GEOMETRİK CİSİMLER

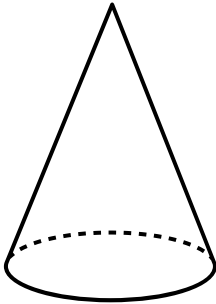
Aşağıdaki geometrik cisimlerin adlarını yazalım. Açılımları ile eşleştirelim.



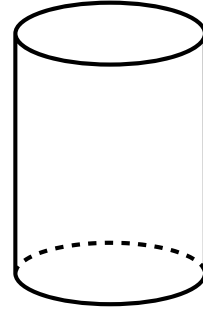
.....



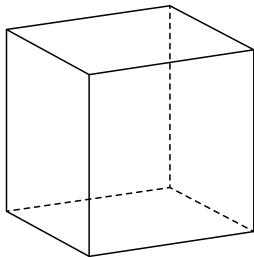
.....




.....



.....



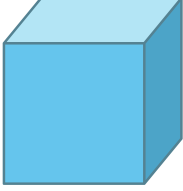




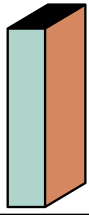
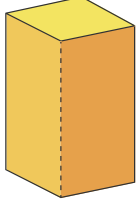
.....



.....

ADI SOYADI:**3.SINIF****MATEMATİK KONU ANLATIM ÇALIŞMASI****GEOMETRİK CİSİMLER**

Aşağıdaki geometrik cisimlerin istenilen özelliklerini tabloda uygun yerlere yazalım.

Geometrik Cisim	Yüzeyini Oluşturan Şekiller	Özellikleri
		Adı: Ayrınt Sayısı: Köşe Sayısı: Yüz Sayısı:
		Adı: Ayrınt Sayısı: Köşe Sayısı: Yüz Sayısı:
		Adı: Ayrınt Sayısı: Köşe Sayısı: Yüz Sayısı:
		Adı: Ayrınt Sayısı: Köşe Sayısı: Yüz Sayısı:
		Adı: Ayrınt Sayısı: Köşe Sayısı: Yüz Sayısı:
		Adı: Ayrınt Sayısı: Köşe Sayısı: Yüz Sayısı:
		Adı: Ayrınt Sayısı: Köşe Sayısı: Yüz Sayısı:

ADI SOYADI:

3.SINIF

MATEMATİK KONU ANLATIM ÇALIŞMASI

GEOMETRİK CİSİMLER



Aşağıdaki günlük hayatta kullandığımız varlıkların şekilleri hangi geometrik şekle benzediğini eşleştirelim.

