

ADI SOYADI:

2.SINIF

MATEMATİK KONU ANLATIM ÇALIŞMA KAĞIDI

KONU ADI: NESNE SAYISINI BELİRLEME VE YAZMA



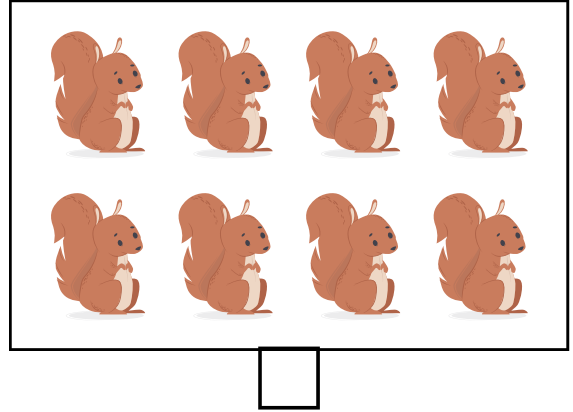

Bilgi: Sayıları gösterebilmek için kullandığımız;
"0, 1, 2, 3, 4, 5, 6, 7, 8, 9" işaretlere rakam denir.

Rakamlar bir araya gelerek sayıları oluşturur.

Bir çokluğun sayısını belirlerken 1'den başlayarak ileriye doğru birer sayarız. En son söylediğimiz sayı çokluğun nesne sayısıdır.



Aşağıdaki nesnelere örnekteki gibi sayalım ve nesne sayılarını altlarındaki kutucuklara yazalım




ADI SOYADI:

2.SINIF


MATEMATİK KONU ANLATIM ÇALIŞMA KAĞIDI

KONU ADI: NESNE SAYISINI BELİRLEME VE YAZMA


Aşağıdaki nesnelere kutucuklarda yazan sayı kadar boyayalım.




12



9



3



5

Aşağıdaki hayvanların sayısını kutucuklara yazalım.







ADI SOYADI:


2.SINIF

MATEMATİK KONU ANLATIM ÇALIŞMA KAĞIDI


KONU ADI: NESNE SAYISINI BELİRLEME VE YAZMA

Başta belirtilen sayı kadar nesneyi boyyalım.

9



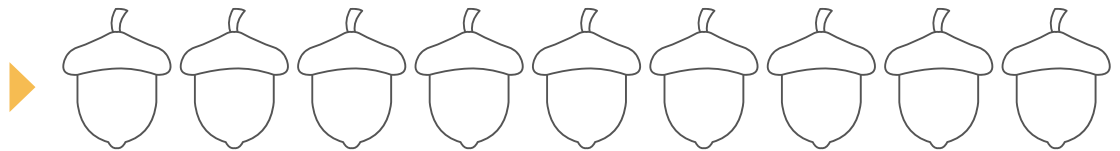
1



3



7



4



6



ADI SOYADI:


2.SINIF

MATEMATİK KONU ANLATIM ÇALIŞMA KAĞIDI

KONU ADI: NESNE SAYISINI BELİRLEME VE YAZMA

Başta belirtilen sayı kadar nesneyi boyyalım.


9



5




8



7



10



12

