

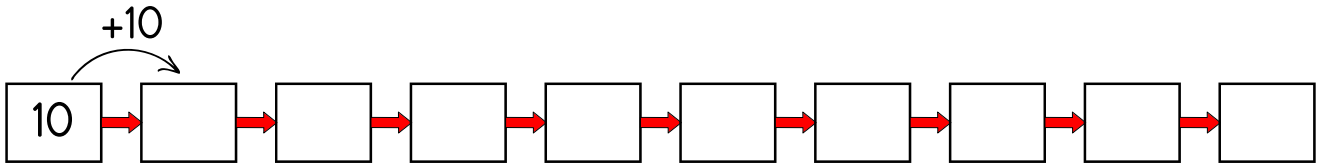
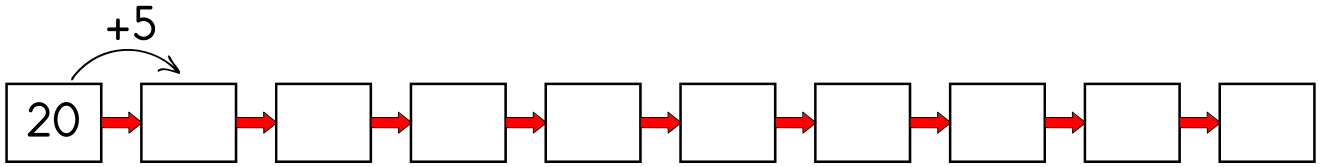
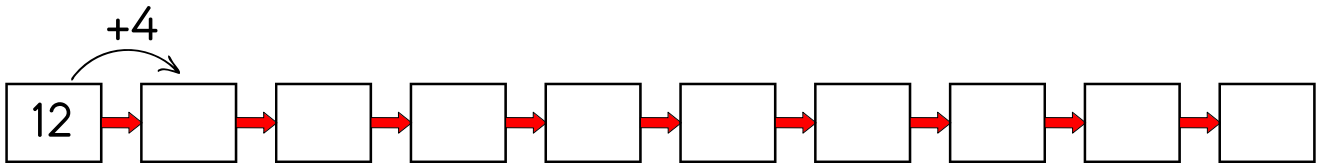
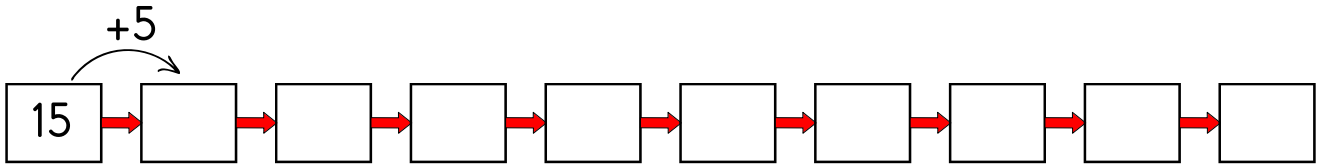
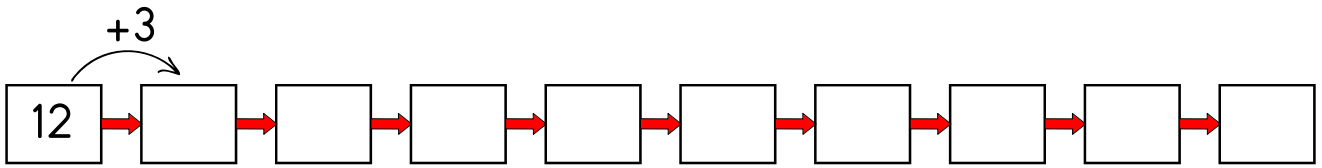
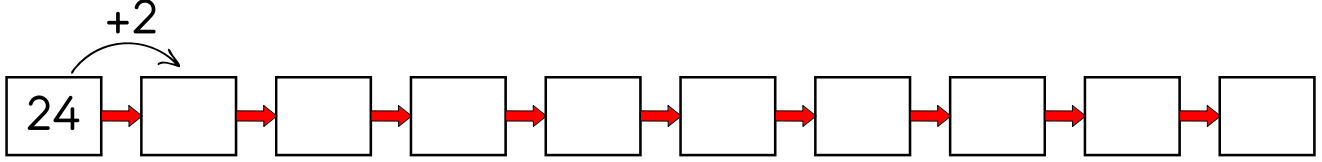
ADI SOYADI:

2.SINIF

MATEMATİK KONU ANLATIM ÇALIŞMA KAĞIDI

KONU ADI : RİTMİK SAYMA

Aşağıdaki sayılardan başlayıp üzerinde yazan sayıyla ileriye doğru ritmik sayarak boşluklara uygun sayıları yazalım.



ADI SOYADI:

2.SINIF

MATEMATİK KONU ANLATIM ÇALIŞMA KAĞIDI

KONU ADI : RİTMİK SAYMA

Aşağıdaki sayılardan başlayıp üzerinde yazan sayıyla geriye doğru ritmik sayarak boşluklara uygun sayıları yazalım.

-3

24 → → → → → → → → → →

-1

12 → → → → → → → → → →

-5

75 → → → → → → → → → →

-4

48 → → → → → → → → → →

-3

63 → → → → → → → → → →

-10

100 → → → → → → → → → →