


ADI SOYADI:

2.SINIF




MATEMATİK KONU ANLATIM ÇALIŞMASI

TOPLAMA İŞLEMLERİNDE EŞİTLİK

Aşağıda şekillerle modellenen eşitlikleri örnekteki gibi ya-palım.



$$5 + 3 = 4 + 4$$
$$8 = 8$$



ADI SOYADI:

2.SINIF

MATEMATİK KONU ANLATIM ÇALIŞMASI

TOPLAMA İŞLEMLERİNDE EŞİTLİK

Aşağıdaki terazilerin dengede durması için " " yerine yazılması gereken sayıları örnekteki gibi yazalım.

