



Aşağıdaki tabloyu inceleyelim. Soruları cevaplayalım.

<b>Pazartesi</b>	
<b>Salı</b>	
<b>Çarşamba</b>	
<b>Perşembe</b>	
<b>Cuma</b>	
<b>Cumartesi</b>	
<b>Pazar</b>	



Not: Her şekil 1 cevizi göstermektedir.

1. Sincap en fazla cevizi hangi gün yemiştir?

.....

2. Sincap en az cevizi hangi gün yemiştir?

.....

3. Sincap bir haftada toplam kaç ceviz yemiştir?

.....

4. Sincap, hafta sonu toplam kaç ceviz yemiştir?



.....

5. Çarşamba ve cuma günleri toplam kaç ceviz yemiştir?

.....



Aşağıdaki tabloyu inceleyelim. Soruları cevaplayalım.

Çiftlikteki Hayvanlar	
Hayvanlar	Hayvan sayısı
	14
	12
	8
	5

1. Çiftlikte kaç koyun vardır?

.....

2. Çiftlikte kaç inek vardır?

.....

3. Çiftlikteki eşek ve horozların toplam sayısı kaçtır?

.....

4. Çiftlikteki inek sayısı koyun sayısından kaç fazladır?

.....

5. Çiftlikte en az ve en çok olan hayvanların toplam sayısı kaçtır?

.....



Aşağıdaki tabloyu inceleyelim. Soruları cevaplayalım.

Pazartesi	Salı	Çarşamba	Perşembe	Cuma	Cumartesi	Pazar
Parçalı Bulutlu	Güneşli	Kar Yağışlı	Rüzgarlı	Güneşli	Yağmurlu	Gök Gürültülü

1. Hangi gün hava hangi gün kar yağışlıdır?

.....

2. Hangi gün hava parçalı bulutludur?

.....

3. Hangi gün hava güneşlidir?

.....

4. Hafta sonu hava durumu nedir?


.....

5. Tabloya göre hangi gün kar yağışlıdır?

.....



Aşağıdaki tabloyu inceleyelim. Soruları cevaplayalım.

SINIF BAŞKANI SEÇİM SONUÇ TABLOSU	
ADAYLAR	ALDIĞI OYLAR
 CİHAN	9
 HAMZA	3
 ZEYNEP	7
 ZEHRA	12

1. En az oyu kim almıştır?

.....

2. Cihan ile Zehra'nın aldıkları oyların toplamı kaçtır?

.....

3. Zeynep ile Hamza'nın aldıkları oylarının farkı kaçtır?

.....

4. Toplam kaç oy kullanılmıştır?

.....

5. En az ve en çok oy alan adayların toplam oy sayısı kaçtır?

.....